

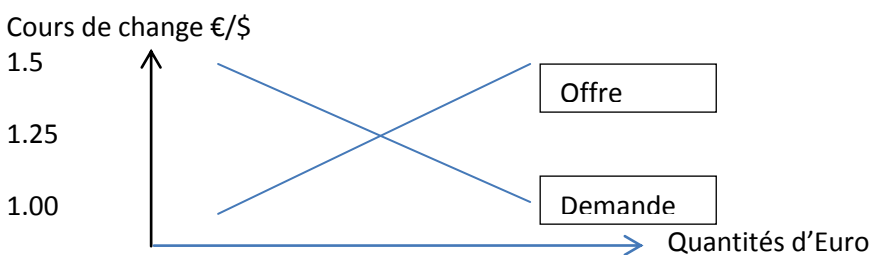
- Thème :
Programme Terminale Tronc commun SES
Thème éco 2.2 Comment s'opère le financement de l'économie mondiale ?
→ **le fonctionnement du marché des changes**
- **Objectifs :**
 - **démarche :** *présenter le fonctionnement du marché des changes en partant d'une représentation graphique simple (appuyée sur les acquis de première sur le marché) puis enrichir le modèle en prenant en compte d'autres variables à partir d'exemples concrets*
 - **notions :** *Balance des paiements, devises, marché des changes, spéculation.*
 - **indications complémentaires :** *« On présentera de façon élémentaire le fonctionnement du marché des changes ainsi que les principaux déterminants de l'offre et de la demande de devises. En ayant recours à une représentation graphique simple, on montrera comment se détermine le taux de change. On s'interrogera sur les effets d'une variation des cours de change sur l'économie des pays concernés »*
 - **savoir-faire :** *Représentation graphique de fonctions simples (offre, demande, coût) et interprétation de leurs pentes et de leurs déplacements*
- **Ressources :** *vidéo / manuel*
- **Durée :** *deux heures (avec synthèse)*
- **Déroulement :**

(rayer les mauvaises réponses ou répondre aux questions, selon les cas)

1/ comprendre « une représentation graphique simple » du fonctionnement du marché des changes

Hypothèses : deux pays (Euroland – USland) / deux monnaies (€, \$) / une seule activité donnant lieu à échange (le tourisme) / les touristes dépensent à l'étranger toutes les sommes qu'ils ont converties

Le cours de change €/ \$ (lire « EURO contre DOLLAR ») représente la valeur de 1 Euro en Dollar Américain. Il évolue en fonction de l'offre et de la demande conformément au schéma ci-dessous



1.1 (Sur l'axe des ordonnées) si le cours de change €/ \$ passe par exemple de 1,3 à 1,25 cela signifie que :
le dollar prend de la valeur par rapport à l'Euro ? ou qu'il baisse par rapport à l'Euro ?

1.2 Quand un couple de touristes européens part aux USA, cela donne lieu à :
une demande d'Euros contre dollars ou une offre d'euros contre dollars ?

1.3 Sur le graphique ci-dessus, que représente alors la droite de « demande »

...

1.4 quelle est la signification du point d'équilibre ?

...

2/ Interprétation des « pentes » des droites d'offre et de demande à partir d'un exemple

Vidéo : <http://www.bfmtv.com/economie/leuro-faible-attire-touristes-americains-174090.html>

«L'été 2010, l'Euro valait 1.2 \$ soit le cours le plus bas depuis deux ans, ceci *incitait / dissuadait* les touristes américains à (de) venir faire du tourisme en Europe

et, du même coup *augmentait / diminuait* les quantités d'Euros demandées sur le marché

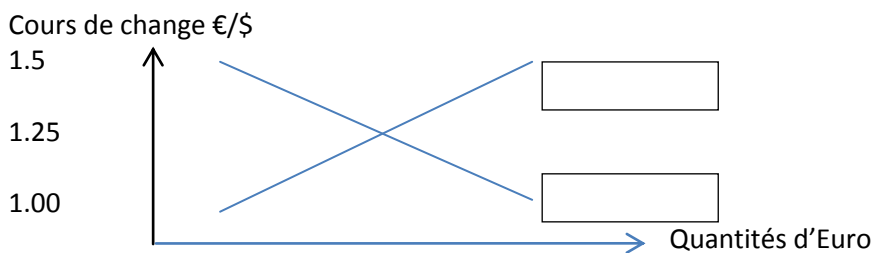
3/ Interpréter le déplacement des courbes avec un exemple

On suppose une nouvelle vague d'attentats aux USA...

3.1 Quelles conséquences probables sur les flux touristiques entre les deux régions ?

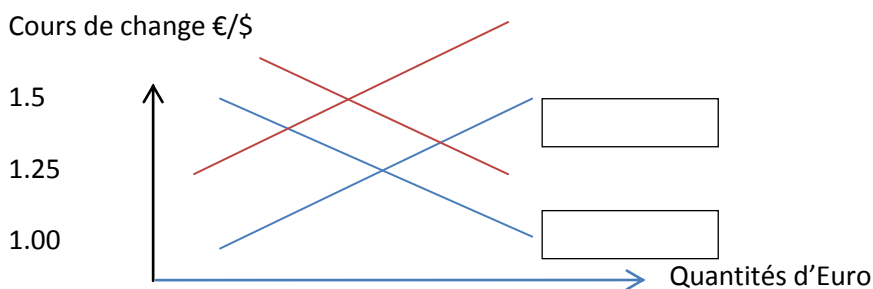
3.2 ...et sur l'offre et la demande d'Euros contre dollars ?

3.3 Comment cela peut-il se traduire sur notre graphique ? (montrer, en les traçant, le déplacement des droites)



3.4 quelles conséquences sur le cours de l'€ / \$? (à lire sur le graphique)

...



4/ prendre en compte d'autres opérations économiques influençant le cours de change

4.1 (en dehors du tourisme) imaginez d'autres circonstances où des agents économiques européens ou américains peuvent avoir à échanger des € contre des \$ (*vous pouvez vous aider des différents postes de la BDP étudiée au préalable*)

...

4.2 En cas d'apparition d'un déficit commercial entre Euroland et USland : quelles conséquences sur le cours de l'Euro ? (*expliquer en utilisant la représentation graphique*)

...

4.3 Si Euroland décide de diminuer ses taux d'intérêt pour relancer sa croissance : quelles conséquences sur les flux de capitaux entre les deux zones ?

...

quel impact sur le cours de l'Euro ? (*expliquer en utilisant la représentation graphique*)

...

5/ prendre en compte les interventions des autorités monétaires

Doc : manuel Belin p 125 « les réserves de change chinoise au cœur... »

5.1 Qu'est ce qui tend à « faire grimper » la devise chinoise ?

...

5.2 Pourquoi les autorités chinoises s'efforcent-elles de limiter l'appréciation du Yuan ?

...

5.3 Comment s'y prennent-elles en agissant sur le marché des changes ?

...

5.4 Pourquoi les USA et les Européens contestent-ils cette politique ?

...